



ΩΡΑ ΓΙΑ ΠΑΙΧΝΙΔΙ! 😊

Ποια πόλη δείχνει το αστέρι;

1. Λευκωσία
2. Λεμεσός
3. Λάρνακα
4. Αμμόχωστος
5. Πάφος
6. Κερύνεια



Ποια πόλη δείχνει το αστέρι;

1. Λευκωσία
2. Λεμεσός
3. Λάρνακα
- 4. Αμμόχωστος**
5. Πάφος
6. Κερύνεια



Ποια οροσειρά δείχνει το τόξο;

- Οροσειρά Τροόδους
- Οροσειρά Πενταδακτύλου



Ποια οροσειρά δείχνει το τόξο;

- Οροσειρά Τροόδους
- **Οροσειρά Πενταδακτύλου**



Ποια πόλη δείχνει το αστέρι;

1. Λευκωσία
2. Λεμεσός
3. Λάρνακα
4. Αμμόχωστος
5. Πάφος
6. Κερύνεια



Ποια πόλη δείχνει το αστέρι;

1. Λευκωσία

2. Λεμεσός

3. Λάρνακα

4. Αμμόχωστος

5. Πάφος

6. Κερύνεια



Ποια πόλη δείχνει το αστέρι;

1. Λευκωσία
2. Λεμεσός
3. Λάρνακα
4. Αμμόχωστος
5. Πάφος
6. Κερύνεια



Ποια πόλη δείχνει το αστέρι;

1. Λευκωσία
2. Λεμεσός
3. Λάρνακα
4. Αμμόχωστος
- 5. Πάφος**
6. Κερύνεια



Ποια οροσειρά δείχνει το τόξο;

- Οροσειρά Τροόδους
- Οροσειρά Πενταδακτύλου



Ποια οροσειρά δείχνει το τόξο;

- Οροσειρά Τροόδους
- Οροσειρά Πενταδακτύλου



Ποια πόλη δείχνει το αστέρι;

1. Λευκωσία
2. Λεμεσός
3. Λάρνακα
4. Αμμόχωστος
5. Πάφος
6. Κερύνεια



Ποια πόλη δείχνει το αστέρι;

1. Λευκωσία
2. Λεμεσός
3. Λάρνακα
4. Αμμόχωστος
5. Πάφος
- 6. Κερύνεια**



Ποια πόλη δείχνει το αστέρι;

1. Λευκωσία
2. Λεμεσός
3. Λάρνακα
4. Αμμόχωστος
5. Πάφος
6. Κερύνεια



Ποια πόλη δείχνει το αστέρι;

1. Λευκωσία
2. Λεμεσός
- 3. Λάρνακα**
4. Αμμόχωστος
5. Πάφος
6. Κερύνεια



Ποια πόλη δείχνει το αστέρι;


1. Λευκωσία
2. Λεμεσός
3. Λάρνακα
4. Αμμόχωστος
5. Πάφος
6. Κερύνεια



Ποια πόλη δείχνει το αστέρι;

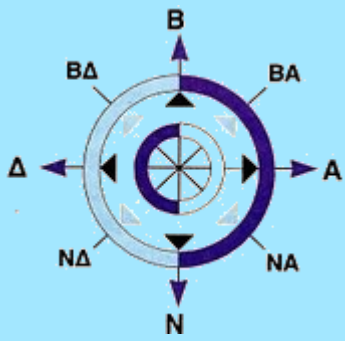
1. Λευκωσία
- 2. Λεμεσός**
3. Λάρνακα
4. Αμμόχωστος
5. Πάφος
6. Κερύνεια



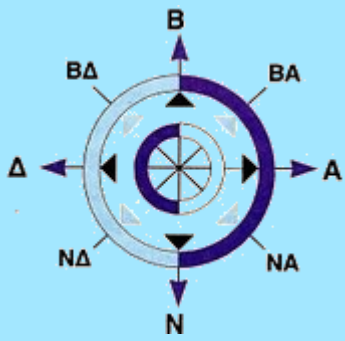


**Μπράβο σου!!
Παίξε ξανά 😊**

Πόλεις της Κύπρου



Οροσειρές της Κύπρου



Οροσειρά
Πενταδακτύλου



Οροσειρά Τροόδους